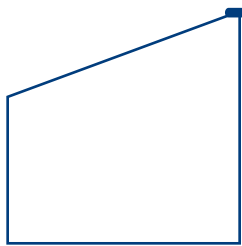


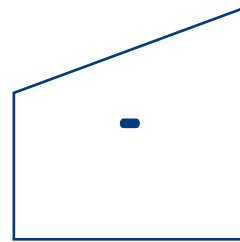
Trapèzes en rotation – B

Nom : _____

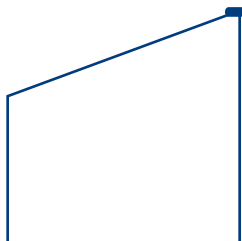
Utilise un calque du trapèze et ton plan pour effectuer les rotations.
 Illustre l'image obtenue.



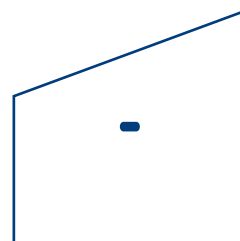
Rotation : un quart de tour dans le sens des aiguilles d'une montre



Rotation : 270° dans le sens des aiguilles d'une montre



Rotation : 180° dans le sens des aiguilles d'une montre



Rotation : un quart de tour dans le sens contraire des aiguilles d'une montre