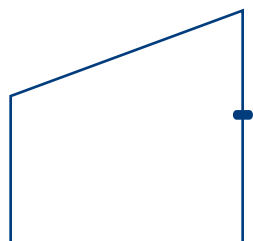


Activité 4

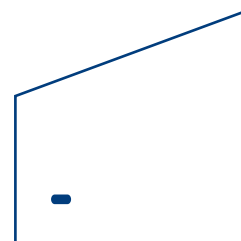
Trapèzes en rotation – A

Nom : _____

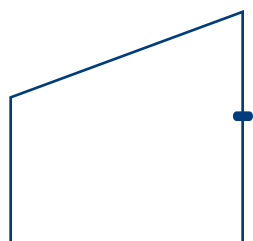
Utilise un calque du trapèze et ton plan pour effectuer les rotations.
Illustre l'image obtenue.



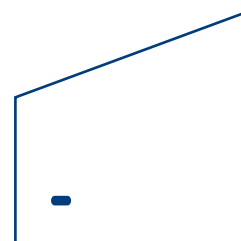
Rotation : un quart de tour dans le sens
des aiguilles d'une montre



Rotation : 270° dans le sens des aiguilles
d'une montre



Rotation : 180° dans le sens des aiguilles
d'une montre



Rotation : un quart de tour dans le sens
contraire des aiguilles d'une montre