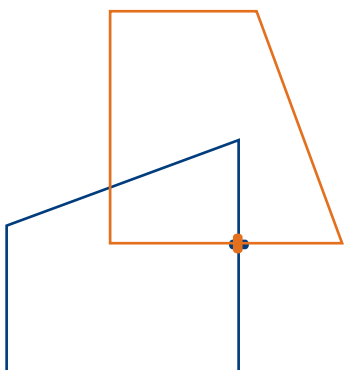


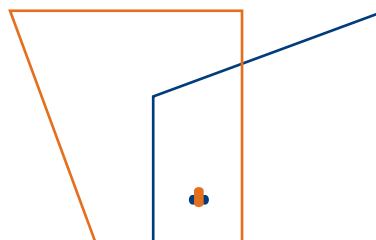
Activité 4

Trapèzes en rotation – A – Corrigé

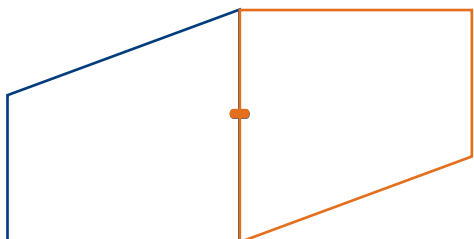
Utilise un calque du trapèze et ton plan pour effectuer les rotations.
Illustre l'image obtenue.



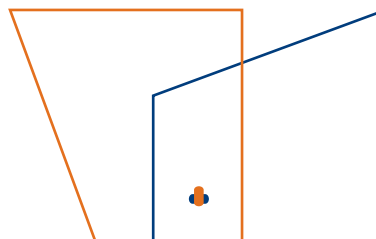
Rotation : un quart de tour dans le sens des aiguilles d'une montre



Rotation : 270° dans le sens des aiguilles d'une montre



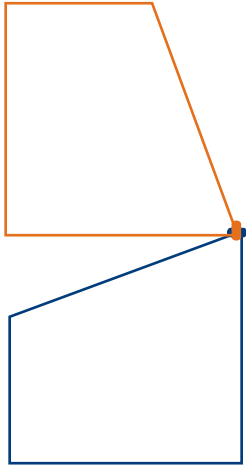
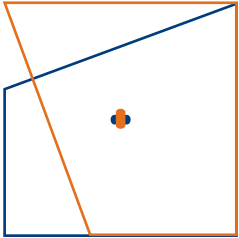
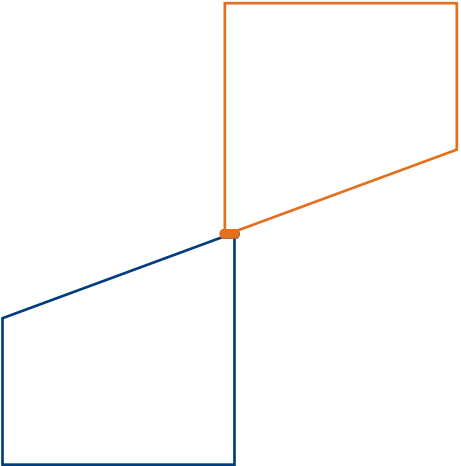
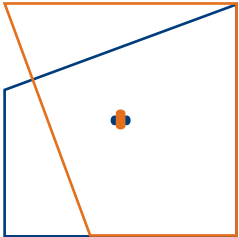
Rotation : 180° dans le sens des aiguilles d'une montre



Rotation : un quart de tour dans le sens contraire des aiguilles d'une montre

Trapèzes en rotation – B – Corrigé

Utilise un calque du trapèze et ton plan pour effectuer les rotations.
 Illustre l'image obtenue.

 <p>Rotation : un quart de tour dans le sens des aiguilles d'une montre</p>	 <p>Rotation : 270° dans le sens des aiguilles d'une montre</p>
 <p>Rotation : 180° dans le sens des aiguilles d'une montre</p>	 <p>Rotation : un quart de tour dans le sens contraire des aiguilles d'une montre</p>