







Novembre 2021

| Lundi | | Mardi | | Mercredi | | Jeudi | | Vendredi | | Samedi | | Dimanche | |
|--|----|--|----|----------|----|---|----|----------|----|----------------|----|---|----|
| Toussaint | 1 | | 2 | | 3 | | 4 | | 5 | | 6 | | 7 |
|  | | | | | | | | | | Fin de semaine | | Fin de semaine | |
| | 8 | | 9 | | 10 | Jour du Souvenir | 11 | | 12 | | 13 | | 14 |
| | | | | | |  | | | | Fin de semaine | | Fin de semaine | |
| | 15 | | 16 | | 17 | | 18 | | 19 | | 20 | | 21 |
| | | | | | | | | | | Fin de semaine | | Fin de semaine | |
| | 22 | | 23 | | 24 | Action de grâce américaine | 25 | | 26 | | 27 | Hanouka | 28 |
| | | | | | |  | | | | Fin de semaine | |  | |
| Hanouka | 29 | Hanouka | 30 | | | | | | | | | | |
|  | |  | | | | | | | | | | | |

- 1- Regarde le calendrier et identifie les différentes fêtes.
- 2- Combien de fêtes peux-tu y trouver?
- 3- Combien de jours y a-t-il entre le jour du Souvenir et l'Action de grâce américaine?
- 4- Est-ce que la Toussaint est avant ou après l'Hanouka?
- 5- Quand est le jour du Souvenir?
- 6- Combien de jours de fin de semaine y a-t-il en tout?
- 7- Quelle est la durée du mois de novembre?
- 8- Quel mois vient après le mois de novembre?
- 9- Si le 30 novembre est un mardi, le 1^{er} décembre sera quel jour de la semaine?