









Des polygones élastiques

Nom : _____

	<p>Nom : carré</p> <p>Nombre de côtés : _____</p> <p>Nombre de sommets : _____</p>
	<p>Nom : _____</p> <p>Nombre de côtés : 5</p> <p>Nombre de sommets : _____</p>
	<p>Nom : _____</p> <p>Nombre de côtés : _____</p> <p>Nombre de sommets : 6</p>
	<p>Nom : octogone</p> <p>Nombre de côtés : _____</p> <p>Nombre de sommets : _____</p>

Activité 1

	<p>Nom : _____</p> <p>Nombre de côtés : 7</p> <p>Nombre de sommets : _____</p>
	<p>Nom : rectangle</p> <p>Nombre de côtés : _____</p> <p>Nombre de sommets : _____</p>
	<p>Nom : _____</p> <p>Nombre de côtés : 3</p> <p>Nombre de sommets : _____</p>
	<p>Nom : quadrilatère</p> <p>Nombre de côtés : _____</p> <p>Nombre de sommets : _____</p>