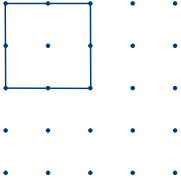
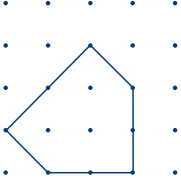
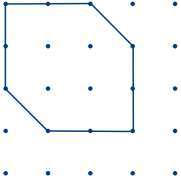
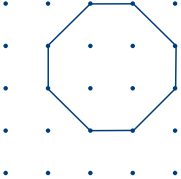






Des polygones élastiques – Corrigé

Voici des exemples de dessins possibles :

| | |
|--|--|
|  | <p>Nom : carré</p> <p>Nombre de côtés : 4</p> <p>Nombre de sommets : 4</p> |
|  | <p>Nom : pentagone</p> <p>Nombre de côtés : 5</p> <p>Nombre de sommets : 5</p> |
|  | <p>Nom : hexagone</p> <p>Nombre de côtés : 6</p> <p>Nombre de sommets : 6</p> |
|  | <p>Nom : octogone</p> <p>Nombre de côtés : 8</p> <p>Nombre de sommets : 8</p> |

Activité 1

| | |
|--|---|
|  | <p>Nom : heptagone</p> <p>Nombre de côtés : 7</p> <p>Nombre de sommets : 7</p> |
|  | <p>Nom : rectangle</p> <p>Nombre de côtés : 4</p> <p>Nombre de sommets : 4</p> |
|  | <p>Nom : triangle</p> <p>Nombre de côtés : 3</p> <p>Nombre de sommets : 3</p> |
|  | <p>Nom : quadrilatère</p> <p>Nombre de côtés : 4</p> <p>Nombre de sommets : 4</p> |