


# Activité 1



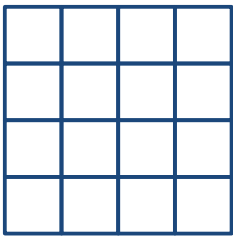
## Quel pourcentage?

1. Colorie les deux figures en fonction du pourcentage indiqué. Justifie chaque réponse.

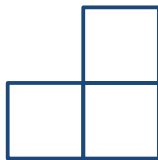
a) 50 %



b) 75 %



2. La figure ci-dessous représente 30 % d'un rectangle.



a) Dessine 100 % du rectangle. Justifie ta réponse

b) Colorie 80 % du rectangle. Justifie ta réponse.