


La pelouse

Nom : _____

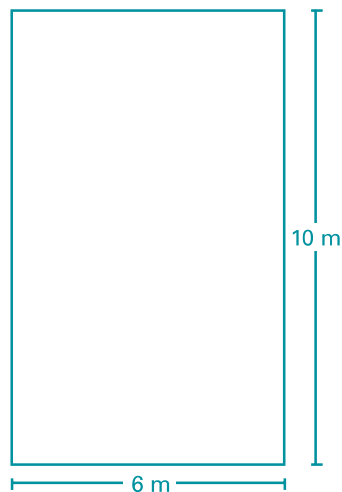
Voici le plan de différents terrains sur lesquels on veut poser de la pelouse.
 Les parties ombrées représentent des zones sur lesquelles on ne pose pas de pelouse.
 Détermine l'aire de chaque terrain qui doit être couvert de pelouse.
 Laisse des traces de ta démarche.

1.

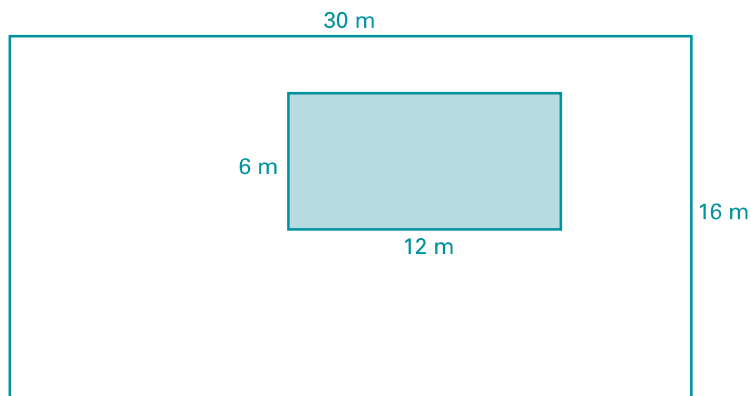


représente 1 m^2

2.



3.



4.

